

3. Stegreifarbeit Mathematik am _____
 Klasse 7a; Name _____

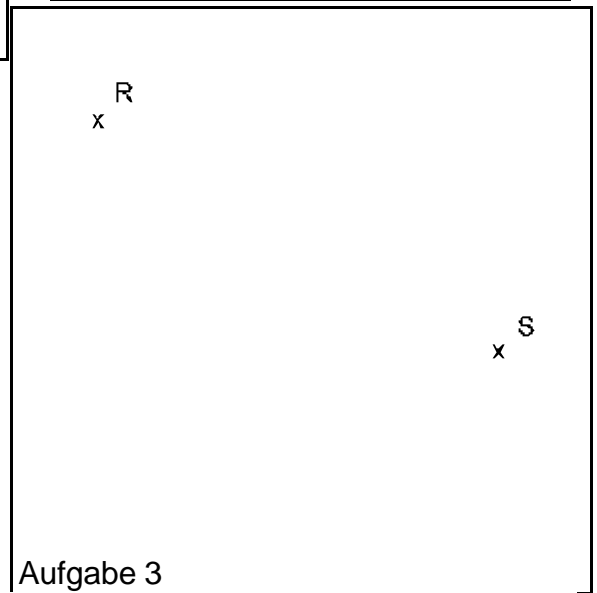
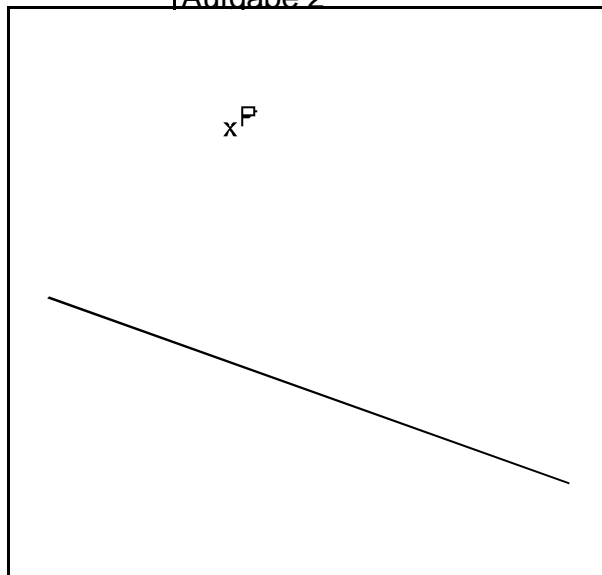
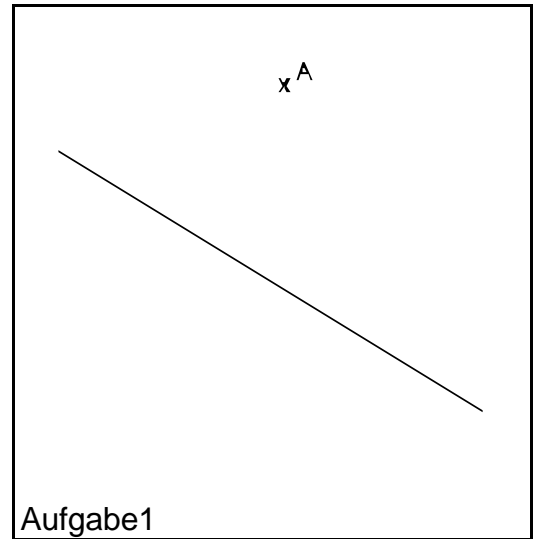
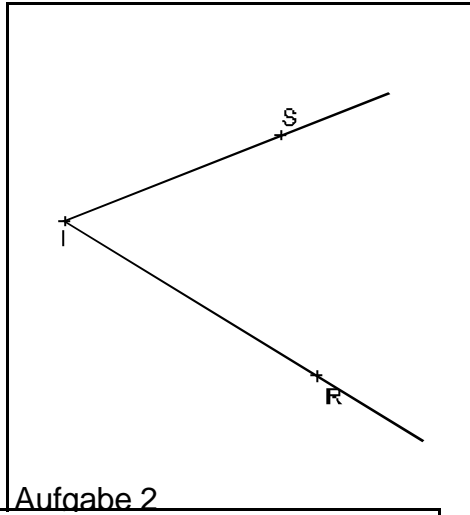
Alle Aufgaben mit Zirkel und Lineal lösen!

1. Falle das Lot von A auf die Gerade. (Aufgabe 1)

2. Halbiere den Winkel
 \sphericalangle RTS (Aufgabe 2)

3. Konstruiere die
 Mittelsenkrechte uber
 der Strecke [RS]
 (Aufgabe 3)

4. Konstruiere die
 Parallele durch P zur
 gegebenen Geraden.
 (Aufgabe 4)



5. Konstruiere die Hohen des Dreiecks
 ABC. Was fallt auf?

