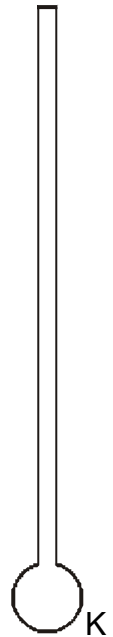
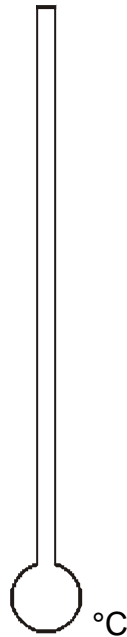
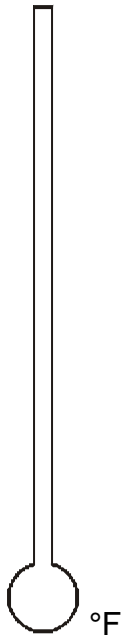


1. Stegreifarbeit Physik am _____
Klasse 9a; Name _____

1. Vergleiche die Thermometerskalen nach Celsius, Kelvin und Fahrenheit.



2. Wie wird eine Thermometerskala nach Celsius hergestellt? Stichpunkte!

3. Welche Baumerkmale muss ein Thermoskop haben, damit es die Temperatur möglichst genau anzeigen kann?

Welche Nachteile ergeben sich aus diesen Baumerkmalen?