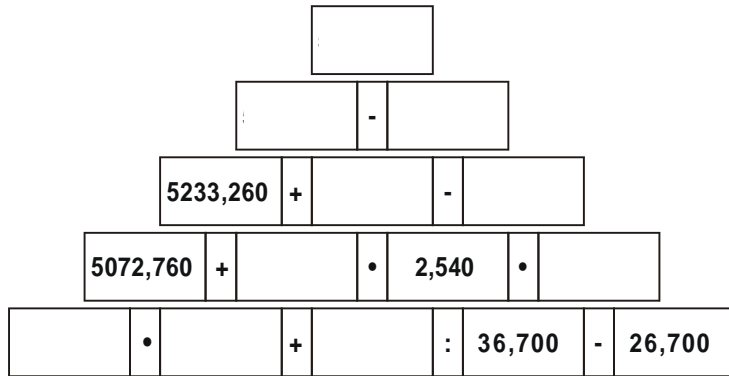
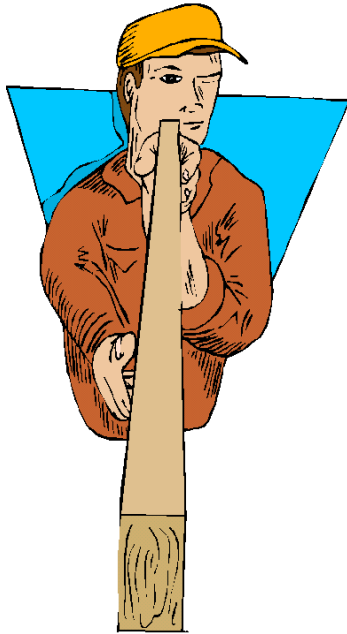


Rechnen mit Dezimalzahlen und gemeinen Brüchen

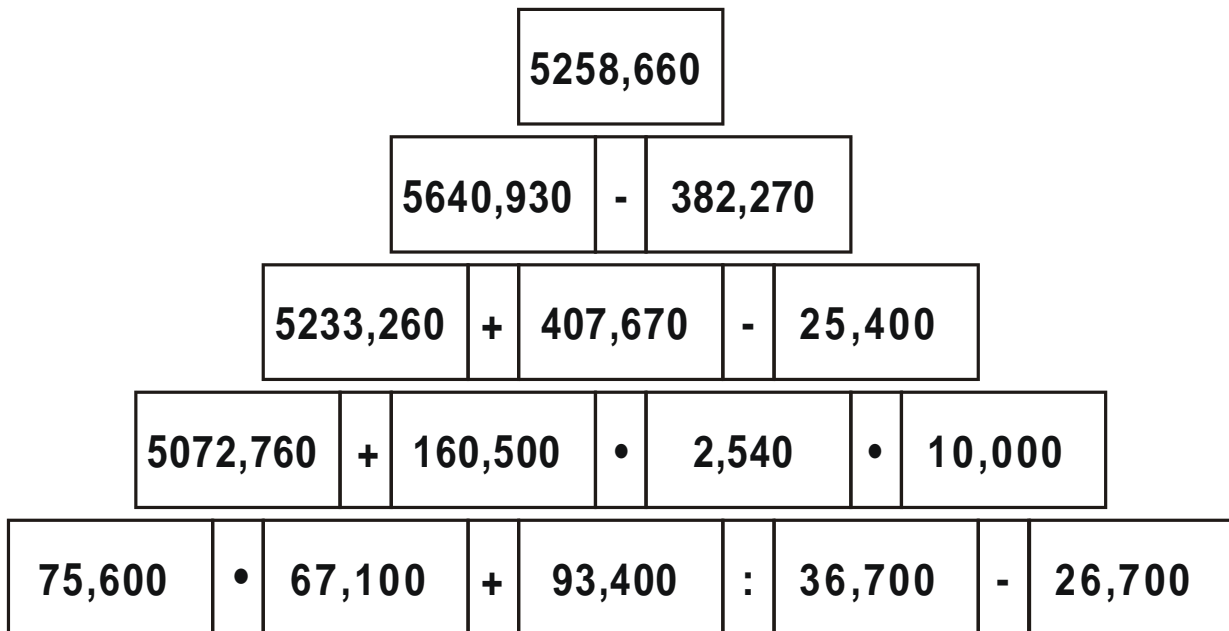
Karte 22 - Termmauer 4

Nimm ein Rechenblatt mit auf deinen Platz und berechne die fehlenden Zahlen oder ermittle die fehlenden Rechenzeichen. Runde jeweils auf zwei Nachkommastellen.



Rechnen mit Dezimalzahlen und gemeinen Brüchen

Karte 22 - Termmauer 4



Rechenblatt zur Termmauer 4

[]										
[]			-	[]						
5233,260	+	[]		-	[]					
5072,760	+	[]		•	2,540	•	[]			
	•	[]		+	[]		:	36,700	-	26,700

Runde jeweils auf zwei Nachkommastellen.

Rechenblatt zur Termmauer 4

[]										
[]			-	[]						
5233,260	+	[]		-	[]					
5072,760	+	[]		•	2,540	•	[]			
	•	[]		+	[]		:	36,700	-	26,700

Runde jeweils auf zwei Nachkommastellen.